

(امتحان قصير (1) في مادة العلوم للصف الرابع)

الاسم: الصف:

(1) ظلل الدائرة الدالة على الإجابة الصحيحة: (1) م

• يؤثر الإنسان بشكل ضار على البيئة ومن الأمثلة على ذلك:

- الفيضانات ○ الأعاصير ○ الصيد ○ الجائر ○ الزلازل

(2) ضع علامة (√) في المكان المناسب : (1) م

خطأ	صواب	العبارة
		أ) يساعد شكل منقار الطيور في تحديد نوع طعامها.
		ب) تمتلك جميع الطيور أقداما مسطحة.

(3) صلّ بخط بين الطائر ومواصفاته: (2) م

طائر قوي يمتلك مخالب حادة، يتغذى على صغار الحيوانات

أ) البطريق

لا يستطيع الطيران، لكن يستطيع السباحة يتغذى على الأسماك يعيش في المناطق الثلجية.

ب) النسر

طائر ضخم يعيش قرب البحيرات ضمن مجموعات وهو يستغرق وقتاً بالمشي في الماء بحثاً عن الغذاء.

ت) الفلامينغو

طائر يمتلك عيون حادة وشكل منقاره يساعد في القبض على الحشرات.

(4) استخدم المفتاح التعريفي لتمييز بين الحيوانات التالية:



الحوت



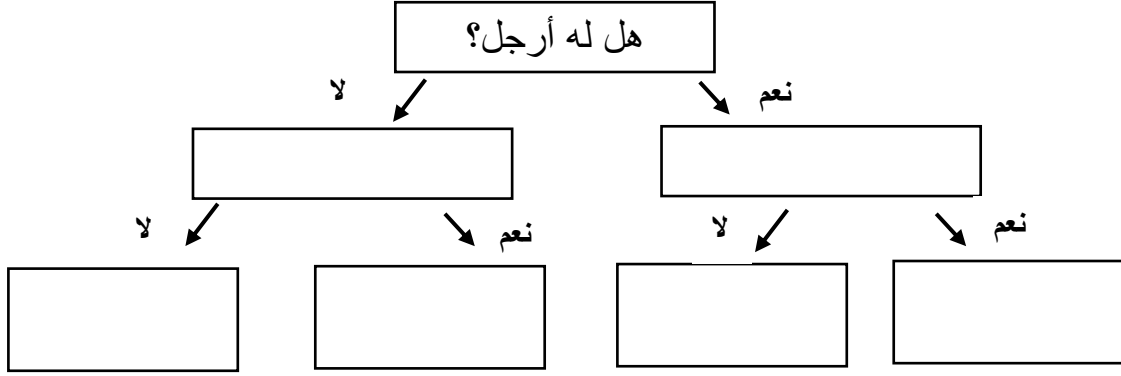
الأرنب



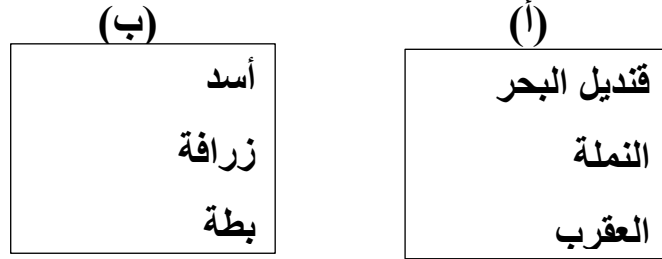
الأسد



سمك القرش



(5) قامت فاطمة بتصنيف الحيوانات إلى مجموعتين (أ) و (ب) كالتالي:

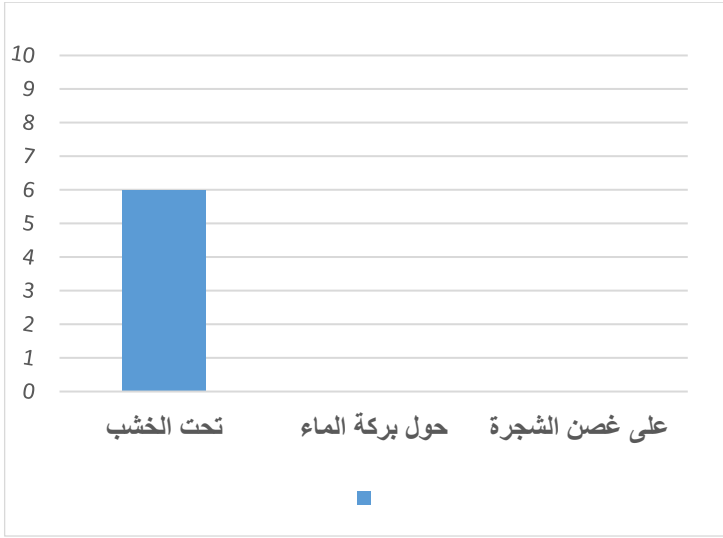


* ما التصنيف الذي اتبعته فاطمة؟ _____ (1) م

* لو أرادت فاطمة إضافة العصفور أين سوف تضعه، المجموعة (أ) أم المجموعة (ب)؟

فسر إجابتك؟ _____ (1) (أ.ع)

(6) انظر للجدول الذي أمامك ثم أجب عما يأتي:



المكان	عدد الحلزونات
تحت الخشب	
حول بركة الماء	
على غصن الشجرة	

(أ) مثل البيانات السابقة بالرسم البياني بالأعمدة: (1)

(ب) أصيبت الحديقة بالجفاف وقلت أعداد الطيور الموجودة في الحديقة، فسر ذلك؟

(1) (أ.م) _____

(ت) سأل محمد أستاذة، بما أن الحلزون يتغذى على الأوراق. هل يمتلك لساناً خشناً أملساً؟
فسر إجابتك؟

(1) (أ.ع) _____